

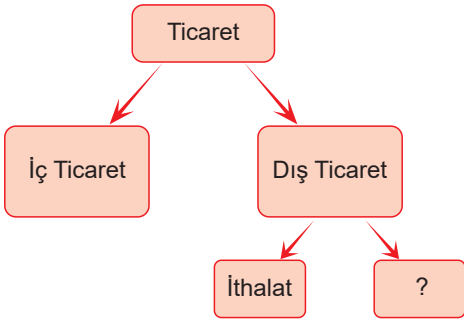
ÜLKEMİZ VE DÜNYA-1

1. I. Malların alım satımının ülke içinde yapılması
- II. Mal ve hizmet satımının başka ülkeye yapılması
- III. İhtiyaç duyulan mal ve hizmetin başka bir ülkeden temin edilmesi

Yukarıdaki tanımlar aşağıdaki terimlerle eşleştirildiğinde hangisi dışarıda kalır?

- | | |
|------------|------------|
| A) Turizm | B) İthalat |
| C) İhracat | D) Ticaret |

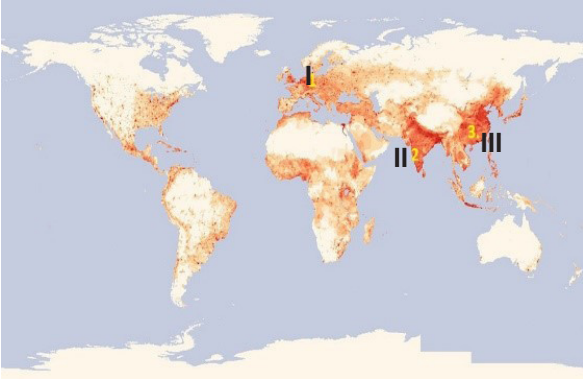
2.



Yukarıda “?” ile gösterilen yere aşağıdakilerden hangisi yazılmalıdır?

- | | |
|-------------|----------------------|
| A) İhracat | B) Dış ticaret açığı |
| C) Dış alım | D) Kaynak |

3.

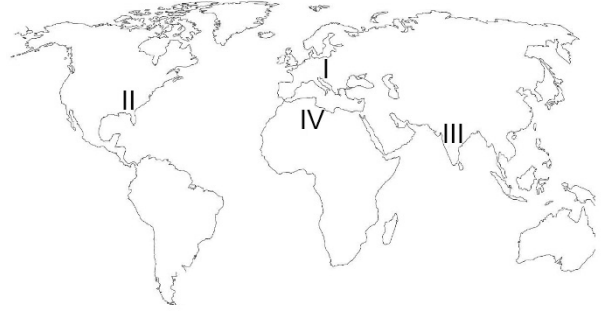


Yukarıda verilen dünya haritasında nüfusun yoğun olarak bulunduğu yerler numaralandırılmıştır.

Aşağıdakilerden hangisi bu bölgelerde nüfusun yoğun olmasının sebeplerinden biri değildir?

- A) Olumlu iklim şartlarına sahip olmaları
- B) Verimli tarım arazileri üzerinde kurulmaları
- C) Ekvator üzerinde bulunmaları
- D) Yer şekillerinin yerleşmeye uygun olması

4.



Dünya üzerinde verilen numaralandırılmış yerlerden hangisinin nüfusu diğerlerinden farklı bir özellik göstermektedir?

- | | | | |
|-------|--------|-------|------|
| A) IV | B) III | C) II | D) I |
|-------|--------|-------|------|

5.

Dünyanın farklı bölgelerinde insanların yaptığı ekonomik faaliyetler değişiklik göstermektedir.

Bu faaliyetlerin değişiklik göstermesinde aşağıdaki faktörlerden hangisi en az etkilidir?

- A) İklimler farklılık göstermesi
- B) Farklı bitki örtülerine sahip olmaları
- C) Yer altı kaynaklarının zengin olması
- D) Yaşayan insan sayısının fazla olması

6.

Dünyanın nüfus özellikleri birçok faktörün etkisi altındadır. Nüfusu etkileyen bu faktörler nüfusun yoğun veya seyrek olmasına sebep olurlar.

Buna göre dünyada nüfusun yoğun olarak bulunduğu yerler arasında;

- I. Çöl alanları
- II. Deniz ve okyanus kıyıları
- III. Ekvator çevresi

hangileri bulunmaz?

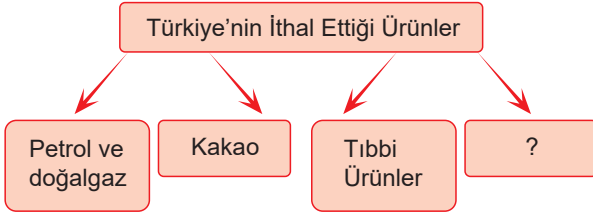
- | | |
|--------------|-----------------|
| A) I ve II | B) I ve III |
| C) II ve III | D) I, II ve III |

ÜLKEMİZ VE DÜNYA-1

7. Aşağıdakilerden hangisi dünyanın nüfus özellikleri arasında yer almaz?

- A) Kutup bölgeleri olumsuz iklim şartlarından dolayı seyrek nüfusludur.
B) Amazon, Kango nehirlerinin havzası sıcak ve nemli olduğundan yoğun nüfusludur.
C) Güneydoğu Asya (Çin, Hindistan) verimli tarım alanları bulunduğu için yoğun nüfusludur.
D) Avrupa kıtası iklim koşulları uygun olduğu için yoğun nüfusludur

8.



Verilen diyagramda boş bırakılan yere aşağıdakilerden hangisi yazılamaz?

- A) Suni gübre
B) İncir
C) Kahve
D) Hurma

9. I. Türkiye'nin ithalat ve ihracatında ön plana çıkan ülke Almanya'dır.
II. Türkiye'nin ihracatında petrol önemli paya sahiptir.
III. İhraç ettiklerimiz daha çok tarım ürünlerinden oluşmaktadır.
Yukarıda verilenlerden hangisi ya da hangileri yanlıştır?

- A) I
B) I-II
C) II
D) II-III

10. Uluslararası Türk Kültürü Teşkilatı'nın amaçları arasında aşağıdakilerden hangisi yoktur?

- A) Türkçe konuşan ülkeler arasında kültürel ilişkileri geliştirmek.
B) Orta Asya Türk Cumhuriyetleri ile yatırım anlaşmaları yapmak.
C) Türk kültürünü araştırmak ve geliştirmek.
D) Türk kültürünü gelecek kuşaklara aktarmak.

11. Köklerimize inmeli ve olayların böldüğü tarihimiz içinde bütünleşmeliyiz. Onların (Dış Türklerin) bize yaklaşmasını bekleyemeyiz. Bizim onlara yaklaşmamız gereklidir. (Mustafa Kemal Atatürk)

Aşağıdaki kurumlardan hangisi Atatürk'ün bu sözü doğrultusunda kurulmuştur?

- A) Türk İşbirliği ve Kalkınma İdaresi Başkanlığı
B) Gelir İdaresi Başkanlığı
C) Toplu Konut İdaresi Başkanlığı
D) Devlet Personel Başkanlığı

12. Türkiye'nin güvenliğini amaçlayan, hiçbir milletin aleyhinde olmayan bir barış doğrultusu, bizim daima ilkemiz olacaktır. (Mustafa Kemal ATATÜRK)

Atatürk'ün bu sözüne göre aşağıdakilerden hangisi millî dış politikamızın ilkelerinden biridir?

- A) Milletlerarası karşılıklılık
B) Devletlerin eşitliği
C) Ülkemizin tam bağımsızlığı
D) Komşu devletlerle barış içinde yaşama

http : // odsgm. meb. gov. tr/ kurslar

Ölçme, Değerlendirme ve Sınav Hizmetleri Genel Müdürlüğü

MEB 2016 - 2017