

ÜLKEMİZİN KAYNAKLARI - I

1. Türkiye’de ormancılık faaliyetlerinin çoğunlukla kıyı bölgelerde yapılmasının temel nedeni aşağıdakilerden hangisidir?

- A) Kıyı bölgelerde sanayi faaliyetlerinin gelişmesi.
- B) Kıyı bölgelerde yaşayan insanların temel ekonomik faaliyet olarak ormancılığı kabul etmesi.
- C) Nem ve yağış miktarının fazla olmasından dolayı orman alanlarının kıyı gölgelerde yoğunlaşması.
- D) Kıyı bölgelerde turizm faaliyetlerinin yaygın bir şekilde yapılması.

2. Dağlık ve engebeli bir yapının var olması ve olumsuz iklim şartlarının bulunması nedeni ile rahat bir şekilde tarımın yapılamadığı Doğu Anadolu Bölgesi’nde hayvancılık, yaygın olarak yapılmaktadır.

Hayvancılık faaliyetlerine bağlı olarak Doğu Anadolu Bölgesi’nde aşağıda verilen sanayi dallarından hangisi gelişmiştir?

- A) Otomotiv sanayisi
- B) Toprak sanayisi
- C) Maden sanayisi
- D) Et ve süt ürünleri sanayisi

3. Ali Bey, makarna fabrikası kurmak istiyor. Ali Bey’e ülkemizde un ve unlu mamuller üzerine sanayi tesisi kurulabilecek bir bölge tavsiye etmemiz isteniyor.

Ali Bey’in, fabrikasının ham maddeye yakın olması ve kuracağı fabrikanın kâr edebilmesi için aşağıdaki şehirlerden hangisini tavsiye edebiliriz?

- A) Konya
- B) Adana
- C) Rize
- D) Antalya

4. Mine: “Yaşadığım şehirde ormanlar geniş yer tutuyor. Ayrıca deniz kenarında bulunan şehrimizin iklimi de ılıman, arazilerimiz çok geniş ve verimli. Bu şehir herkesin yaşamak isteyeceği bir yer.”

Mine’nin anlatımına göre, onun yaşadığı şehir ile ilgili aşağıdakilerden hangisi söylenemez?

- A) Turizm faaliyetleri yapılabilir.
- B) Kereste üretimi yapılmaktadır.
- C) İnsanlar tarımla uğraşmaktadır.
- D) Sanayi tesisleri geniş yer kaplamaktadır.

5. Aşağıdakilerden hangisi vergilerin kullanıldığı yerlere örnek gösterilemez?

- A) Baraj yapılması
- B) Özel sağlık merkezleri
- C) Sanayi ve ticaret yatırımları
- D) Güvenlik hizmetlerinin yerine getirilmesi

6. Aşağıdakilerden hangisi belediyelere ödediğimiz vergiler arasında değildir?

- A) Emlak vergisi
- B) Taşıt vergisi
- C) İlan ve reklam vergisi
- D) Çevre temizlik vergisi

7. Aşağıdakilerden hangisi nitelikli insanın özelliklerinden biri değildir?

- A) Yeniliklere ve gelişmelere açıktır.
- B) Eleştirilere açık değildir.
- C) Emeği boşa harcamaz.
- D) Enerji ve malzemedden tasarruf eder.





ÜLKEMİZİN KAYNAKLARI - I

8. Ülkemizin tuz ihtiyacının önemli bir kısmının sağlandığı Tuz Gölü'nde, kendisini besleyen derelerin suyuna karışan atıklar ve kirli sular nedeni ile yapısal bozukluklarla karşılaşmaktadır. Gölü besleyen derelerin ve yer altı sularının sulama amacı ile kullanılması sonucu göl kurumaya başlayarak zamanla küçülmüştür. Türkiye'nin tuz ihtiyacının karşılandığı göl kurumaya başlayınca gölden çıkarılan tuza bağlı olarak çevresinde gerçekleştirilen ekonomik faaliyetlerde azalmaya başlamıştır.

Sadece yukarıda verilen metne göre aşağıdakilerden hangisi söylenemez?

- A) Ülkemizin önemli tuz kaynaklarından biri Tuz Gölü'dür.
- B) Tuz Gölü zamanla kuruyarak küçülmeye başlamıştır.
- C) Tuz Gölü Türkiye'nin en büyük ikinci gölüdür.
- D) Tuz Gölü'nün kuruması ile çevresinde yapılan ekonomik etkinliklerde azalmaya başlamıştır.

9. Küresel ısınmaya en fazla etki eden ekonomik faaliyet aşağıdakilerden hangisidir?

- A)  Tarım
- B)  Sanayi
- C)  Madencilik
- D)  Turizm





10. Meslek seçimi ile ilgili aşağıdakilerden hangisi doğru değildir?

- A) Mesleğimizi seçerken ailemizin sözünün dışına çıkmamalıyız.
- B) İlgi, yetenek ve becerilerimize uygun meslekler seçmeliyiz.
- C) Seçmiş olduğumuz mesleğe yönelik iyi bir eğitim almamız gerekir.
- D) Hem kendimizi hem de seçeceğimiz mesleğin özelliklerini iyi tanımalıyız.

11.

Nitelikli insanın özellikleri nelerdir?

Bu soruya aşağıdaki öğrencilerden hangisi yanlış cevap vermiştir?

- A)  Mert
İşini severek yapar.
- B)  Yiğit
İşinde planlı hareket eder.
- C)  Erhan
Zamandan tasarruf etmez.
- D)  Aysel
İşini en iyi şekilde yapmaya çalışır.

12. I. İlgi
II. Yetenek
III. Beceri
İnsanlar mesleklerini seçerken yukarıdakilerden hangilerini dikkate alırlar?

- A) I ve II
- B) I ve III
- C) II ve III
- D) I, II ve III