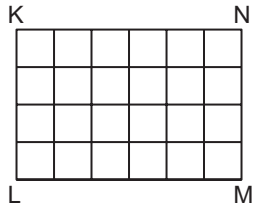


UZUNLUK ÖLÇÜLERİ

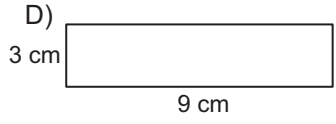
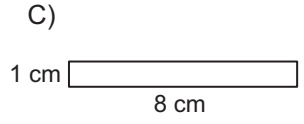
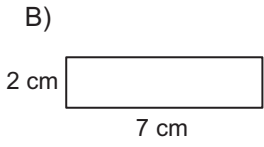
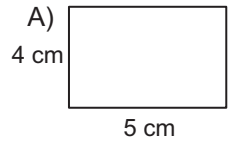
1. Bir eşkenar üçgen ile bir karenin çevreleri eşittir. Eşkenar üçgenin bir kenarı 48 cm olduğuna göre, karenin bir kenarı kaç santimetredir?
A) 48 B) 36 C) 24 D) 12

2. Şekildeki KLMN dikdörtgeni, her birinin çevresi 12 cm olan 24 eş kareden oluşmuştur. Buna göre, KLMN dikdörtgeninin çevresi kaç santimetredir?
A) 48 B) 54 C) 60 D) 64



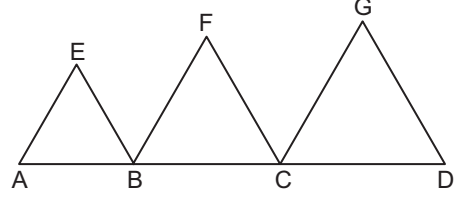
Şekildeki KLMN dikdörtgeni, her birinin çevresi 12 cm olan 24 eş kareden oluşmuştur.

3. Aşağıdaki dikdörtgenlerden hangisinin çevresi diğerlerinden farklıdır?
A) 4 cm, 5 cm
B) 2 cm, 7 cm
C) 1 cm, 8 cm
D) 3 cm, 9 cm



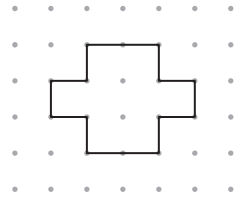
4. Tüm kenarları doğal sayı ve çevresi 16 cm olan kaç farklı dikdörtgen çizilebilir?
A) 2 B) 3 C) 4 D) 5

5. Şekildeki EAB, FBC ve GCD üçgenleri eşkenar üçgendir. |AD| = 15 cm olduğuna göre, şeklin çevresi kaç santimetredir?
A) 45 B) 40 C) 35 D) 30



Şekildeki EAB, FBC ve GCD üçgenleri eşkenar üçgendir. |AD| = 15 cm olduğuna göre, şeklin çevresi kaç santimetredir?

6. Aşağıdaki şekillerden hangisinin çevresi yukarıdaki şeklin çevresine eşit değildir?

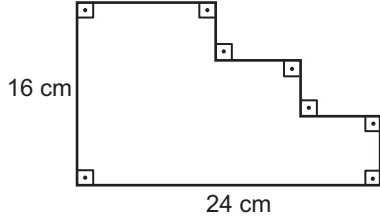


- A) B) C) D)

MEB 2016 - 2017 • Ölçme, Değerlendirme ve Sınav Hizmetleri Genel Müdürlüğü • http://odsgm.meb.gov.tr/kurslar

UZUNLUK ÖLÇÜLERİ

7.



Yukarıdaki şeklin çevresi kaç santimetredir?

- A) 64 B) 72 C) 80 D) 81

8. • 12 m = 12 000 cm
• 45 mm = 0,45 m
• 7 cm = 70 mm
• 13 m = 0,013 km

Yukarıdaki eşitliklerden kaç tanesi doğrudur?

- A) 1 B) 2 C) 3 D) 4

9. Her gün 1500 metre koşan bir sporcu 3 günde kaç kilometre koşar?

- A) 4,5 B) 45 C) 450 D) 4500

10. Burhan'ın boyu 1,82 m dir.

Burçin Burhan'dan 170 mm kısa olduğuna göre, Burçin'in boyu kaç santimetredir?

- A) 175 B) 170 C) 165 D) 160

11. 52,348 metre ifadesinde virgöl hangi rakamın sağına konulursa bu uzunluğun birimi santimetreye çevrilmiş olur?

- A) 3 B) 4 C) 5 D) 8

12. 5 000 000 mm = a cm = b m = c km

Bu eşitlikte a, b ve c harfleri yerine yazılması gereken sayılar için aşağıdakilerden hangisi yanlıştır?

- A) a, b nin 100 katıdır.
-
- B)
- $a > b > c$
- dir.
-
- C) b, c nin 100 katıdır.
-
- D)
- $b + c = 5005$
- tir.