

1. Ünite: Mevsimler ve İklim

1. Hava durumuyla ilgili televizyon haberinde şu bilgiler verilmiştir:

Tarih: 29.09.2018 Saat: 22.00

Türkiye’de kasırganın görülmesine saatler kaldı. Meteorolojiden verilen bilgilere göre kasırga İzmir, Aydın, Muğla illerinde etkili olacaktır.

Tarih: 29.09.2018 Saat: 24.00

Meteorolojiden son ulaşan bilgilere göre kasırganın Marmara Bölgesi’ne ulaşması bekleniyor. İstanbul, Çanakkale, Edirne etkilenebilir. Özellikle İstanbul’da deniz kabarması, çatı uçması, ağaç devrilmesi gözlenebilir. Vatandaşların dikkatli olması gerekmektedir.

Tarih: 30.09.2018 Saat: 10.00

Kasırga yön değiştirerek Ege Denizi’ndeki bazı adaları etkisi altına aldı. Ancak ülkemizin kıyı bölgelerinde sağanak şeklinde yağmur beklenmektedir.

Bu televizyon haberine göre aşağıdakilerden hangisi söylenebilir?

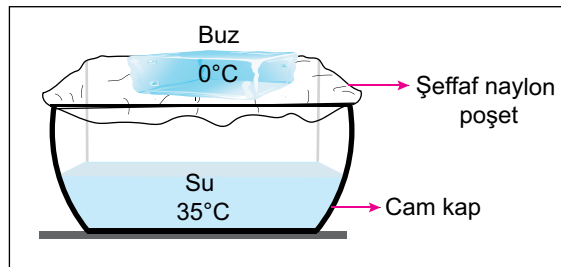
- A) Türkiye’de iklim değişimlerinin etkilerinin görülmediği
- B) Türkiye’nin şiddetli kasırgaların etkisi altına girmeyeceği
- C) Hava durumuyla ilgili tahminlerin değişkenlik gösterebileceği
- D) Deniz kıyısından iç bölgelere ilerledikçe kasırgaların hızının arttığı

2. Dolu : Havanın içindeki su damlacıklarının çok soğuk hava ile karşılaşarak aniden donması sonucu buz parçaları hâlinde yeryüzüne ulaşması.

Kırağı : Soğuk günlerin gecelerinde havadaki su buharının yeryüzündeki toprak ve bitki gibi yüzeyler üzerinde kristaller oluşturması.

Yağmur: Su buharının yükselerek çıktıkça soğuk hava ile karşılaşarak yoğuşarak su damlaları hâlinde yere düşmesi.

Aşağıda 25°C sınıf ortamındaki deney düzeneğinde içerisinde bir miktar su bulunan cam kabın üzeri şeffaf naylon poşet ile kapatılmıştır. Poşet üzerine sıcaklığı 0°C olan buz parçası yerleştirilmiştir.



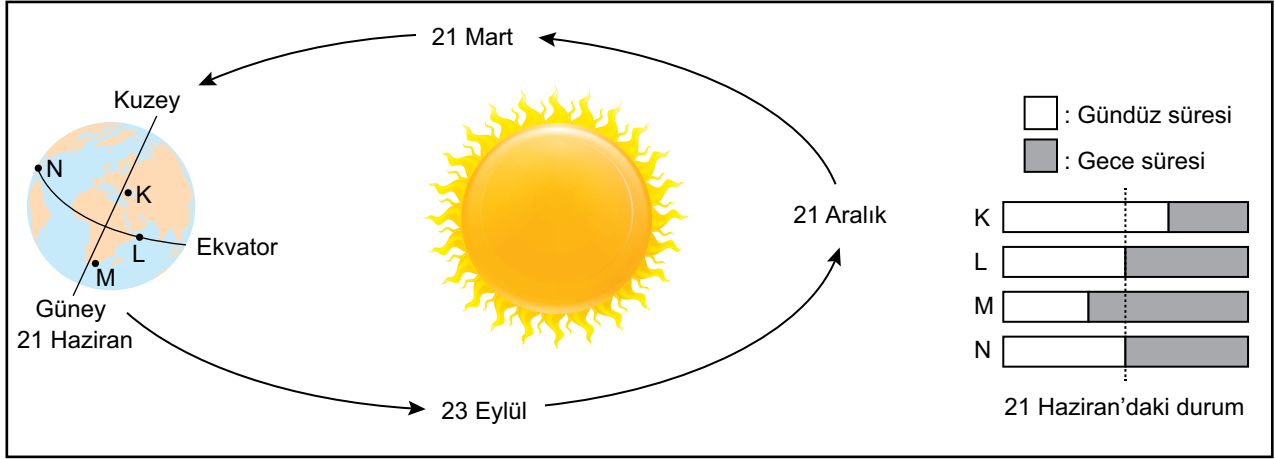
Bir süre sonra cam kap içerisinde yukarıda açıklamaları verilen hava olaylarından hangileri gözlenir?

- A) Yalnız yağmur
- B) Yalnız dolu
- C) Dolu ve kırağı
- D) Kırağı ve yağmur

1. Ünite: Mevsimler ve İklim

3. Mevsimlerin başlangıcı olarak dört önemli tarih bulunur. Bunlar, 21 Haziran, 21 Aralık, 21 Mart ve 23 Eylül tarihleridir. Örneğin 21 Haziran'da Kuzey Yarım Küre'de yaz mevsimi başlarken, en uzun gündüz, en kısa gece yaşanır. Aynı tarihte Güney Yarım Küre'de bu durumların tam tersi yaşanır.

Bir öğrenci yerküre üzerinde belirlediği K, L, M ve N noktalarının verilen tarihlerdeki gece-gündüz süreleri ile ilgili kartlar hazırlamıştır. 21 Haziran için hazırlanan kart şekildeki gibidir.



Buna göre 21 Aralık tarihi için hazırlanan kartta K, L, M ve N noktalarının gece ve gündüz sürelerinin gösterimi aşağıdakilerden hangisi olabilir?

- A)

K	Kısa	Uzun
L	Uzun	Kısa
M	Uzun	Kısa
N	Uzun	Kısa
- B)

K	Uzun	Kısa
L	Kısa	Uzun
M	Uzun	Kısa
N	Uzun	Kısa
- C)

K	Uzun	Kısa
L	Kısa	Uzun
M	Kısa	Uzun
N	Kısa	Uzun
- D)

K	Kısa	Uzun
L	Uzun	Kısa
M	Kısa	Uzun
N	Uzun	Kısa

4. Geçtiğimiz günlerde dünyada yaşanan iki büyük fırtınadan biri ABD'de etkili olan Florance Kasırgası diğeri ise Filipinler, Çin ve Hongkong'u etkisi altına alan Mangkhut Tayfunu'dur. Bu gibi fırtınaların daha sık ve şiddetli yaşanmasına küresel ısınmanın etkisi ile atmosfer ve deniz sıcaklıklarındaki artışın neden olduğu düşünülmektedir.

Bu düşünceyi aşağıdaki durumlardan hangisi destekler?

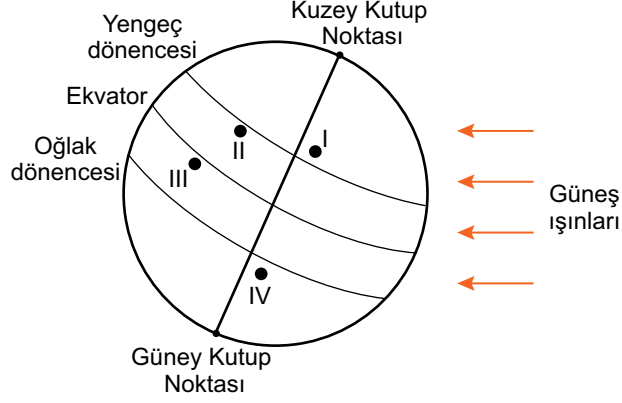
- A) Kasırga ve tayfunların sürekli olarak aynı yerlerde meydana gelmesi
B) Su döngüsünün gerçekleşmesinde hava sıcaklığının etkili olması
C) Deniz yüzeyi sıcaklıkları azaldığında fırtınaların şiddetinin de azalması
D) Küresel ısınmaya bağlı olarak mevsim sürelerinin değişmesi

1. Ünite: Mevsimler ve İklim

5. Ayşe'nin, yurt dışında yaşayan arkadaşı Zeynep ile telefon konuşması şu şekildedir:

Ayşe : Temmuz ayı İzmir'de çok sıcak geçiyor. Hiç rüzgâr esmiyor. Havanın nemi artıyor. Orada hava durumu nasıl?

Zeynep: Burada şu an yaşanan mevsim nedeniyle devam eden yoğun sis ve kar yağışı var. Ulaşım olumsuz etkilendiği için uçak seferleri iptal edildi. Bu hafta Türkiye'ye gelmeyi düşünmüştüm bu yüzden gelemedim.

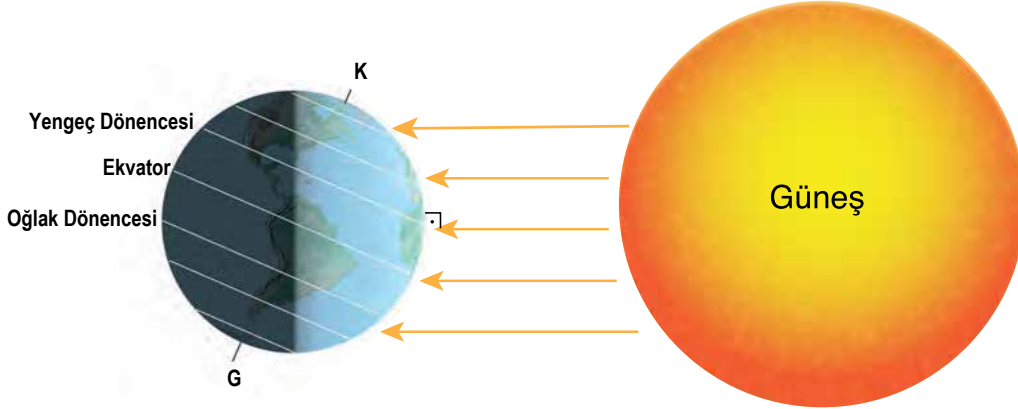


Şekilde yerküre üzerinde numara ile gösterilen dört yer verilmiştir.

Buna göre Zeynep'in yaşadığı şehrin, numaralı yerlerin hangisinde bulunması beklenir?

- A) I B) II C) III D) IV

6. Aşağıdaki görselde 21 Haziran tarihinde Dünya'nın Güneş karşısındaki durumu gösterilmiştir.



Buna göre 21 Haziran'da,

- I. Güney Yarım Küre'de en uzun gece yaşanır.
- II. Dünya üzerindeki tüm noktalarda gece - gündüz süreleri eşitlenir.
- III. Kuzey Yarım Küre'de sonbahar mevsimi sona erer, kış mevsimi başlar.

durumlarından hangileri yaşanır?

- A) Yalnız I. B) Yalnız II. C) I ve III. D) I, II ve III.

1. Ünite: Mevsimler ve İklim

7. İklim ve hava olayları, birbiri ile ilişkili ancak farkları olan kavramlardır. İklim, geniş bir bölgede uzun yıllar devam eden atmosfer olaylarının ortalamasıdır. Hava olayları ise dar bir alanda ve kısa süre içinde görülen atmosfer olaylarıdır.

Ahmet, beş gün boyunca her sabah aynı saatte hava olaylarını gözlemlemek için gökyüzünü incelemiş ve termometreyi balkondaki gölge bir yere asarak hava sıcaklığını ölçmüştür. Yaptığı ölçüm ve gözlemleri sonucunda oluşturduğu tablo aşağıdaki gibidir:

Ahmet'in Hava Gözlem Tablosu			
Günler	Gökyüzü	Sıcaklık (°C)	Rüzgâr şiddeti
Pazartesi		11	Hafif
Salı		10	Orta
Çarşamba		13	Orta
Perşembe		11	Şiddetli
Cuma		10	Şiddetli

Ahmet'in oluşturduğu hava gözlem tablosu ile ilgili olarak aşağıdakilerden hangisi söylenebilir?

- A) Bu tablodaki hava durumu yalnızca yaz mevsiminde gözlenir.
- B) Bulunulan bölgenin hava sıcaklığı gün boyunca sürekli ölçülerek kaydedilmiştir.
- C) Hava sıcaklığının aynı olduğu günlerde farklı hava olayları yaşanmıştır.
- D) Geniş alanda yıl boyu benzerlik gösteren atmosfer olaylarının ortalaması alınmıştır.

1. Ünite: Mevsimler ve İklim

8. İklim, geniş bir alanda uzun süre gözlenen sıcaklık, nem, hava basıncı, rüzgâr ve yağış gibi hava olaylarının ortalamasıdır. Hava durumu ise, daha dar bir alanda, kısa süre içinde görülen hava olaylarıdır.

Fen Bilimleri dersinde iklim ve hava durumu kavramlarını pekiştirmek isteyen öğretmen, öğrencilerinden iklim ve hava durumu örneklerini içeren birer kart hazırlamalarını istemiştir. Bir öğrencinin hazırladığı kartlar aşağıdaki gibidir:

HAVA DURUMU

- I. Bolu'da sabah saatlerinde oluşan sis, trafiği olumsuz etkiledi.
- II. Ağrı'da bir haftadır devam eden kar yağışı nedeniyle bazı köy yolları ulaşıma kapandı.
- III. Antalya'nın yaz mevsimi sıcaklık ortalaması 20 °C'un üstündedir.

İKLİM

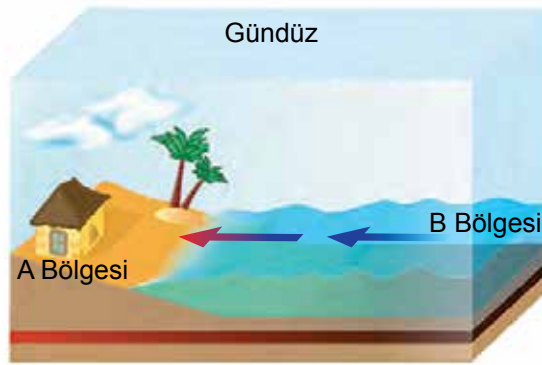
- Erzurum'da kış mevsimi soğuk ve kar yağışlı geçer.
- ▲ Mersin'de yarın öğleden sonra yağmur bekleniyor.
- Rize'de her mevsim genellikle yağışlıdır.

Kartlardaki bilgilerin tamamen doğru olması için hangi ifadelerin birbiriyle yer değiştirmesi gerekir?

- A) I – ■ B) I – ●
C) II – ● D) III – ▲

9. Kara ve denizler Güneş'ten aynı miktarda ısı almalarına rağmen denizler karalara göre daha yavaş ısınır ve daha yavaş soğur. Dolayısıyla aynı bölgede gündüzleri karalar, denizlere göre daha hızlı ısınırken geceleri daha hızlı soğur. Bu da bölgeler arasında sıcaklık etkisiyle basınç farkları oluşturarak havanın yatay ve dikey yönlü hareket etmesine neden olur.

Aşağıdaki görselde A ve B bölgeleri arasında havanın yatay yönlü hareketi gösterilmiştir.



Buna göre söz konusu bölgelerin sıcaklık durumları ve hava hareketleri ile ilgili,

- I. A bölgesinin sıcaklığı B bölgesine göre daha yüksektir.
- II. Geceleyin havanın ters yönde hareket etmesi beklenir.
- III. B bölgesi gece ve gündüzleri daima yüksek basınç alanı hâindedir.

yargılarından hangilerine ulaşılabilir?

- A) Yalnız I. B) I ve II.
C) II ve III. D) I, II ve III.

1. Ünite: Mevsimler ve İklim

10. Dünya'nın yıllık hareketine bağlı olarak mevsimlerin başlangıcı yarım kürelere göre farklılık göstermektedir. Aynı şekilde bir yarım kürede yılın en uzun gecesi yaşanırken diğer yarım kürede ise en uzun gündüz yaşanır.

Dünyanın değişik bölgelerinde yaşayan Türk öğrenciler, 23 Nisan Ulusal Egemenlik ve Çocuk Bayramı için Türkiye'ye gelmiştir. Birbirleriyle tanışan öğrencilerin yaşadıkları yer ile ilgili konuşmaları şu şekildedir:

Ekin : Yaşadığımız yerde 21 Aralık'ta yılın en uzun gündüzü yaşanır.

Elif : Benim yaşadığım yerde yıl boyunca daima 12 saat gece, 12 saat gündüz yaşanır.

Arda : Benim yaşadığım yerde ise 21 Haziran'da yaz mevsimi başlar.

Umut : Yaşadığım şehirde yılın yalnız iki gününde gece ve gündüz süreleri birbirine eşittir.

Bu bilgilere göre öğrencilerden hangisinin yaşadığı yer kesin olarak Kuzey Yarım Küre'dedir?

- A) Ekin B) Elif C) Arda D) Umut

11. Aşağıdaki grafikte iki şehrin aynı yıl içinde hesaplanan aylık ortalama sıcaklık değerleri "°C" cinsinden verilmiştir.

Aylar	Ocak	Şubat	Mart	Nisan	Mayıs	Haziran	Temmuz	Ağustos	Eylül	Ekim	Kasım	Aralık
Şehirler												
I	8	13	18	20	23	25	27	22	15	10	6	3
II	-15	-12	-6	3	10	17	23	18	12	5	-8	-12

Buna göre bu şehirlerle ilgili aşağıdakilerden hangisine ulaşılamaz?

- A) Yer aldıkları yarım küreler
B) Yıllık ortalama sıcaklık değerleri
C) Günlük ortalama sıcaklık değerleri
D) Yaz mevsiminin yaşandığı aylar

12. "Karadeniz açıklarındaki kuru yük gemileri ve Karadeniz'de avlanan balıkçı tekneleri, meteorolojinin şiddetli fırtına ve poyraz uyarısı ile İnebolu Limanı'na sığındı. Balıkçılar, geçmiş yıllarda bu kadar kötü hava koşullarıyla karşılaşmadıklarını ancak bu yıl şiddetli poyraz nedeniyle denize açılmadıklarını belirttiler."

Bu haber metnine göre hava durumu ile ilgili;

- I. insanların yaşamsal faaliyetlerini etkilediği,
II. değişken olabileceği,
III. iklimin genel özellikleriyle ters düşmeyeceği

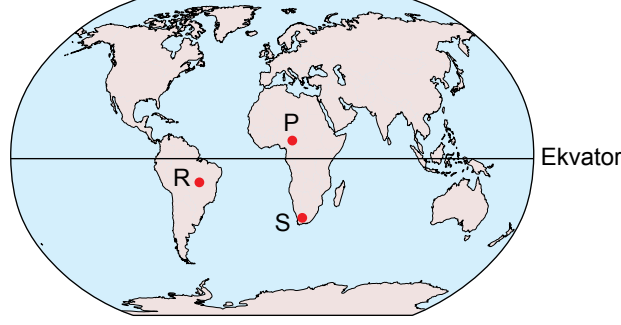
çıkarımlarından hangilerine ulaşılabilir?

- A) I ve II. B) I ve III. C) II ve III. D) I, II ve III.

1. Ünite: Mevsimler ve İklim

13. Eksen eğikliğine ve Dünya'nın Güneş etrafındaki hareketine bağlı olarak Ekvator dışındaki yerlerde gece gündüz süresi yıl içerisinde değişiklik gösterir. Örneğin 21 Haziran tarihinde Güney Yarım Küre'de bulunan yerler yıl içindeki en uzun geceyi yaşarlar, 21 Aralık tarihinde ise bu durumun tam tersi Kuzey Yarım Küre'de en uzun gece yaşanır. Aynı zamanda 21 Haziran tarihinde Dünya üzerindeki herhangi bir noktadan kuzeye doğru gidildikçe gündüz süresi uzar.

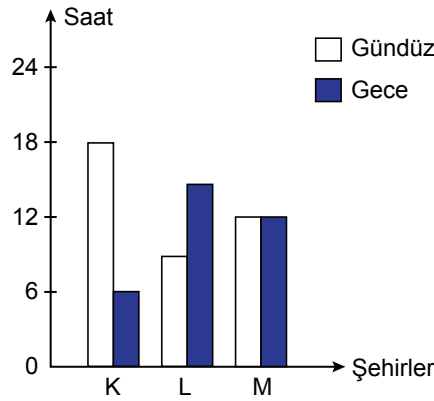
Aşağıdaki görselde P, R ve S şehirlerinin Dünya üzerindeki konumları gösterilmektedir.



Verilen bilgilerden hareketle bu şehirlerin 21 Aralık tarihindeki gece sürelerinin sıralanışı hangi seçenekte doğru verilmiştir?

- A) $S > P > R$ B) $P > R > S$ C) $P > S > R$ D) $S > R > P$

14. Aşağıdaki grafik, 21 Haziran'da K, L ve M şehirlerinde yaşanan gece ve gündüz sürelerini göstermektedir.



Bu grafiğe göre K, L ve M şehirlerinin Dünya üzerindeki konumları aşağıdakilerin hangisinde doğru verilmiştir?

	Kuzey Yarım Küre	Güney Yarım Küre	Ekvator
A)	K	L	M
B)	L	K	M
C)	M	K	L
D)	M	L	K



Cevap anahtarına ulaşmak için karekodu okutunuz.