

İnsanlar, Yerler ve Çevreler – 1

1. Ceyhan ve Seyhan nehirlerinin taşıdığı verimli topraklar üzerindeki Çukurova, tarihin eski dönemlerinden beri yerleşim yeri olarak kullanılmaktadır.

Buna göre bu bölgenin yerleşim yeri olarak seçilmesinin sebebi aşağıdakilerden hangisidir?

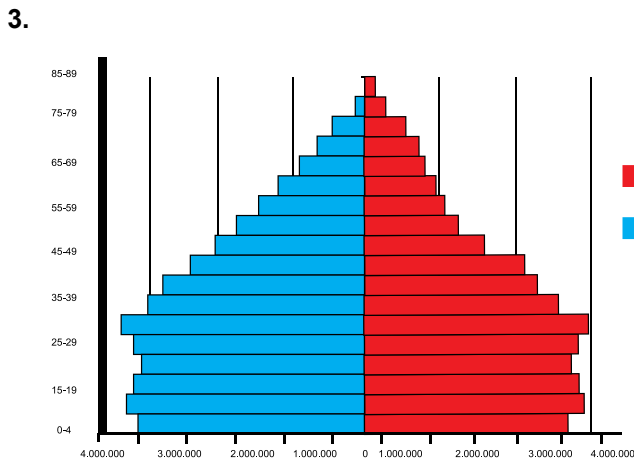
- A) Yeraltı kaynakları bakımından zengin olması
B) Ulaşım imkânlarının gelişmiş olması
C) Tarımsal faaliyetlere elverişli olması
D) İkliminin insan yaşamına uygun olması

2.

Yerleşim Yeri Tercihindeki Faktörler	
Doğal Faktörler	Beşeri Faktörler
İklim	Tarım
Yeryüzü Şekilleri	Sanayi
Bitki Örtüsü	Ulaşım
I	II

Tablodaki I ve II numaralı yerlere aşağıdakilerden hangileri gelmelidir?

	I	II
A)	Turizm	Su kaynakları
B)	Su kaynakları	Ticaret
C)	Ticaret	Kara ve denizlerin dağılımı
D)	Eğitim	Verimli tarım alanları



Nüfus piramidine bakılarak hangisi söylenemez?

- A) Kadın ve erkek nüfus birbirine yakındır.
B) Nüfusun çoğunluğu 45 yaşın altındadır.
C) Yaşlı nüfus oranı fazladır.
D) Doğum oranı yüksektir.

4.

Bölge adı	Nüfus	Yüzölçümü
Marmara	23.608.079	67.300 km ²
İç Anadolu	12.381.363	162.000 km ²
Ege	10.023.549	85.000 km ²
Akdeniz	9.906.771	122.100 km ²
Güneydoğu Anadolu	8.250.718	61.000 km ²
Karadeniz	6.998.998	146.178 km ²
Doğu Anadolu	5.927.630	171.000 km ²

Yukarıda verilen tabloya göre aşağıdaki yargılardan hangisine ulaşamaz?

- A) Marmara Bölgesi'nin nüfus yoğunluğu Karadeniz Bölgesinden daha fazladır.
B) Yüz ölçümü en büyük bölge olan Doğu Anadolu Bölgesi'nin nüfus miktarı en azdır.
C) Yüz ölçümüne göre nüfus yoğunluğunun en fazla olduğu bölge Doğu Anadolu Bölgesidir.
D) Yüz ölçümü en küçük olan bölge Güneydoğu Anadolu bölgesidir.

5. **Nüfusun yeryüzüne dağılımında aşağıdakilerden hangisi daha az etkilidir?**

- A) İklim
B) Sanayi
C) Bitki örtüsü
D) Yüzölçümü

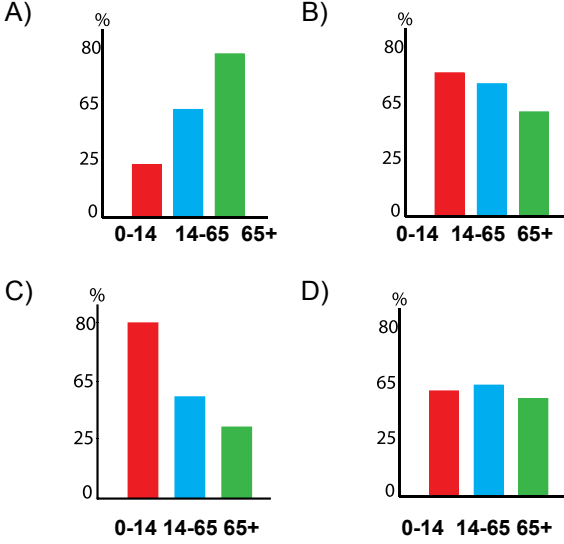
6. İzmir, Türkiye'de nüfusu en kalabalık olan üçüncü büyük ildir. Tarihî bir şehir olan İzmir, demir ve kara yolu ağı ile iç bölgelere bağlıdır. İzmir limanı ülkemizin İstanbul'dan sonraki ikinci büyük limanı olup dış ticaretimizde çok önemli yeri vardır. İzmir'in turizm, kültür, ticaret ve sanayi özellikleri nüfusunun hızla artmasını sağlamıştır.

Buna göre aşağıdakilerden hangisi İzmir'in nüfusunun artışında etkili olan faktörlerden biri değildir?

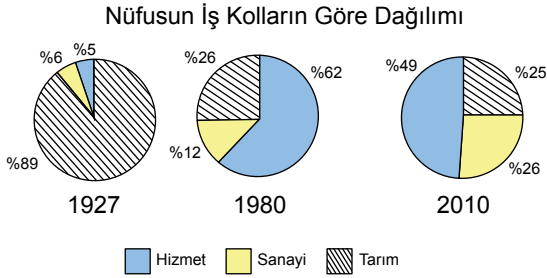
- A) Ulaşımın gelişmiş olması
B) Ticaretin gelişmiş olması
C) Sanayinin gelişmiş olması
D) Maden yatakları bakımından zengin olması

İnsanlar, Yerler ve Çevreler – 1

7. Gelişmiş ülkelerde nüfus artış hızı düşük olduğundan yaşlı nüfus oranı fazla, genç oranı azdır. Buna göre aşağıdaki nüfus ve yaş durumunu gösteren grafiklerden hangisi gelişmiş bir ülkeye aittir?



8.



Türkiye nüfusunun iş kollarına göre dağılımının verildiği yukarıdaki grafiklere göre hangisi söylenemez?

- A) 1927 yılında nüfusun büyük çoğunluğu tarım sektöründe çalışmıştır.
B) 1927 ve 2010 yılları arasında Türkiye'nin sanayisi gelişme göstermiştir.
C) Sanayide çalışan nüfus oranı verilen yıllar arasında sürekli artmıştır.
D) 1927 ve 2010 yılları arasında tarımda çalışan nüfus oranı sürekli artmıştır.

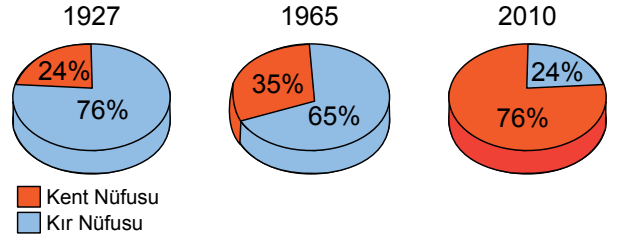
9. Antalya'da nüfus yoğunluğunun fazla olmasında;

- I. turizm,
II. tarımsal faaliyetler,
III. madencilik

gibi faktörlerden hangileri etkili olmuştur?

- A) Yalnız I. B) I ve II.
C) II ve III. D) I, II ve III.

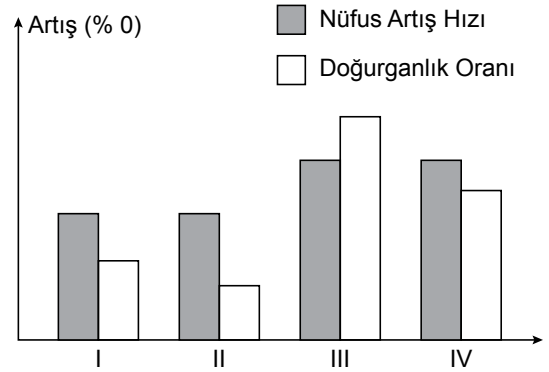
10.



Türkiye'nin kır ve kent nüfus oranlarının gösterildiği grafiğe göre aşağıdakilerden hangisi doğrudur?

- A) 1965 yılında kent nüfusunun az olmasında yurt dışına yapılan göçler etkili olmuştur.
B) 1927 yılından 2010 yılına kadar kent nüfusu sürekli artmıştır.
C) 1927 yılında kent nüfusu kır nüfusundan fazladır.
D) 2010 yılında ülke nüfusu 1965 yılı ülke nüfusundan daha azdır.

11.



Yukarıda dört bölgeye ait nüfus artış hızı ve doğum artış oranları verilmiştir. Buna göre, hangi bölge dışarıya daha çok göç vermektedir?

- A) I. B) II. C) III. D) IV.

12. Şirin'in yaşadığı yerde yüksek ve engebeli alanlar çoğunlukta olduğu için ekonomik faaliyetler kısıtlı olarak yapılabilmektedir. Bu nedenle Şirin'in yaşadığı yerin nüfusu seyrek.

Şirin'in yaşadığı yerin seyrek nüfuslu olmasının nedeni aşağıdakilerden hangisidir?

- A) Yerşekilleri B) Sanayi
C) Turizm D) Yer altı kaynakları

