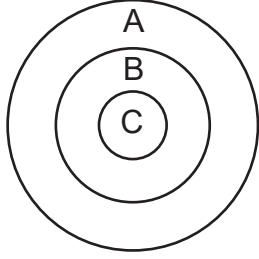


Klasik Mantık - 2

1.

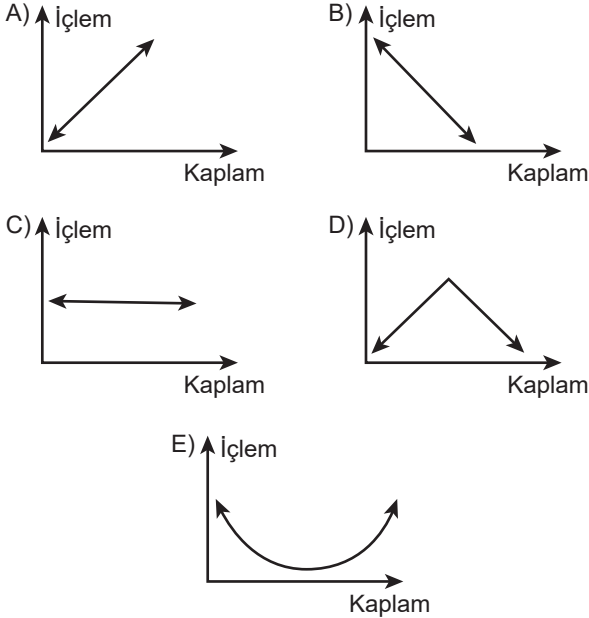


Verilen şema işlem kaplam bakımından değerlendirildiğinde aşağıdaki ifadelerden hangisi yanlış olur?

- A) B ve C, A'nın kaplamındadır.
- B) C'nin işlemi A'nın işleminden çoktur.
- C) B'nin kaplamı C'nin kaplamından çoktur.
- D) A, ve B'nin kaplamaları C'den fazladır.
- E) B ve C'nin kaplamı A'nın kaplamından çoktur.

2. Bir kavramın işlemi arttıkça kaplamı azalır; kaplamı arttıkça işlemi azalır. İşlem ve kaplam arasında ters orantı vardır.

Buna göre aşağıdaki grafiklerin hangisinde işlem kaplam arasındaki ilişki doğru verilmiştir?



3. Aşağıdakilerden hangisi sırasıyla tümel, tekil ve tikel kavrama örnektir?

- A) Bazı adamlar-bu kalem-her yıldız
- B) Bütün çocuklar-Emre-bazı çocuklar
- C) Kimi hayvanlar-her kedi-Dünya
- D) Bu ders-mantık-soruların tümü
- E) Her canlı-çoğu canlı-birkaç canlı

4. Bozkır olmayan, çam ormanlarıyla kaplı, akarsuyun serinliğinin hissedildiği, bazı evlerin ahşaptan bazı evlerin taştan yapıldığı, her insanın yaşamak için can attığı, insanı maddi yaşamın dışında düşünmeye iten Ege'nin bu şirin ilçesinde yaşayan hiçbir canlının buradan ayrılmayı düşünmesi mümkün değildir.

Bu parçada altı çizili kavramların çeşitleriyle ilgili aşağıdaki ifadelerden hangisi yanlıştır?

- A) "Bozkır olmayan" olumsuz bir kavramdır.
- B) "Bazı evler" tümel bir kavramdır.
- C) "Orman" kolektif bir kavramdır.
- D) "Ege" tekil bir kavramdır.
- E) "Hiçbir canlı" tümel bir kavramdır.

5. Aşağıdakilerden hangisi soyut kavrama örnektir?

- A) Çiçek
- B) Masa
- C) İnsanlık
- D) Ağaç
- E) Deniz

6. Aşağıdakilerin hangisi tümel kavrama örnek oluşturur?

- A) Yeşillik
- B) Erciyes Dağı
- C) Tüm insanlar
- D) Şu timsah
- E) Elma

Klasik Mantık - 2

7. Aşağıdakilerin hangisinde olumlu ve olumsuz kavramlar yanlış verilmiştir?

**Olumlu**

- A) Sevimli
- B) Saygılı
- C) Kirli
- D) Doğru
- E) Vicdanlı

**Olumsuz**

- Sevimsiz
- Saygısız
- Kirli olmayan
- Yanlış
- Vicdansız

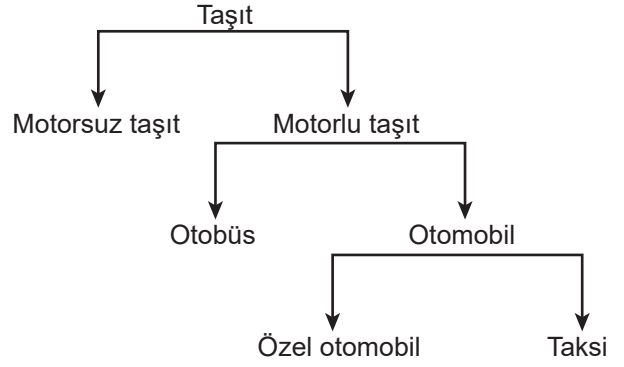
8. Aşağıdakilerden hangisi kolektif bir kavramdır?

- A) Asker
- B) İşçi
- C) Futbolcu
- D) Öğretmen
- E) Şirket

9. Aşağıda beş tümelle ilgili olarak verilen ifadelerden hangisi yanlıştır?

- A) İki genel kavramdan kaplamı geniş olan kavram cinstir.
- B) Cins'e göre türün kaplamı az, işlemi çoktur.
- C) Ayrım; özgürlük ve ilintiliği birbirinden ayıran özelliklerdir.
- D) İlinti birçok türde ortak olan özelliklerdir.
- E) Özgürlük, sadece bir türde bulunan özelliklerdir.

10.



Verilen şema göz önüne alındığında aşağıdaki yargılardan hangisi doğrudur?

- A) Otomobil motorlu taşıtın cinsidir.
- B) Otomobil taksinin ilintisidir.
- C) Otobüs, motorlu taşıtın ilintisidir.
- D) Kaplamı en az olan kavram taşıttır.
- E) Taşıt, özel otomobilin türüdür.

11. Aşağıdaki ifadelerden hangisinde özgürlük söz konusudur?

- A) Ada, dört tarafı denizlerle çevrili karadır.
- B) Hayvan omurgalı bir varlıktır.
- C) İnsan iki ayaklı canlıdır.
- D) Çiçek kokulu bir bitkidir.
- E) Su sıvı bir maddedir.

12. Aşağıdakilerden hangisi "kedi" kavramının ilintisine örnek olamaz?

- A) Miyavlamak
- B) Koşmak
- C) Nefes almak
- D) Hayvan türü olmak
- E) Dört ayaklı olmak

