

Nüfus Politikaları ve Türkiye'nin Nüfus Projeksiyonları

1. Ülkelerin nüfus politikası uygulamalarının amaçları arasında,

- I. Nüfusun eğitim düzeyini artırmak
- II. Nüfusun sağlık durumunu kontrol altında tutmak
- III. Ülke dışına göçleri teşvik etmek

verilenlerin hangileri gösterilemez?

- A) Yalnız I. B) Yalnız II. C) Yalnız III.
D) I ve II. E) I ve III.

2. Nüfus artış hızının fazla olduğu yerlerde, eğitim, sağlık, ulaşım vb. hizmetlerde aksamalar yaşanmaktadır.

Kıtaların nüfus artış hızları düşünüldüğünde bu aksamaların hangisinde daha fazla yaşanması beklenir?

- A) Asya B) Afrika
C) Güney Amerika D) Avrupa
E) Avustralya

3. Nüfus artış hızının azaldığı ülkelerde,

- I. Yaşlı nüfus oranı artar.
- II. Çalışma çağındaki nüfus oranı azalır.
- III. İş gücünü karşılamak için diğer ülkelerden göç alır.

verilen durumların hangilerinin gerçekleşmesi beklenir?

- A) Yalnız I. B) Yalnız II. C) I ve II.
D) II ve III. E) I, II ve III.

4. 1963 yılına kadar ülkemizde uygulanan nüfus artış hızını arttırmaya yönelik politika uygulamaları arasında aşağıdakilerden hangisi yoktur?

- A) Vergi muafiyeti
- B) Ücretsiz sağlık hizmetleri
- C) Göçmenlere gümrük muafiyeti
- D) Altı çocuktan fazla çocuk sahibi olan ailelerin ödüllendirilmesi
- E) Tarım sektöründe çalışan ailelerin şehirlere göç etmesini engellemek

5. Aşağıdaki tabloda K ülkesinin bazı yıllardaki nüfus miktarları verilmiştir.

Yıllar	K
2012	80.425.823
2011	81.797.673
2010	81.776.930
2009	81.902.307
2008	82.110.097
2007	82.266.372

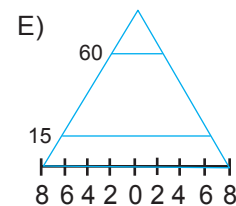
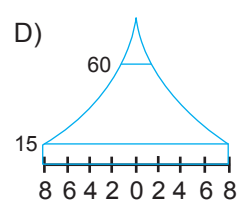
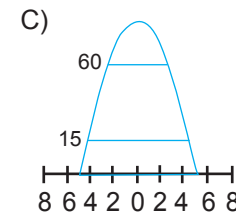
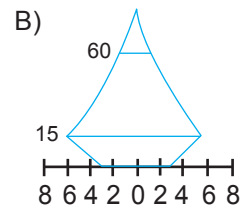
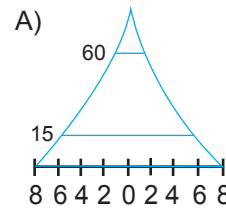
Tablodaki bilgilere bakıldığında K ülkesi ile ilgili olarak:

- I. Nüfusun artış hızını yükseltecek politikalar uygulanması gerekir.
- II. Nüfusu giderek azalmaktadır.
- III. Ülkede cinsiyet dengesizliği ortaya çıkmıştır.

verilenlerden hangileri doğrudur?

- A) Yalnız I. B) Yalnız II. C) I ve II.
D) II ve III. E) I, II ve III.

6. Aşağıda nüfus piramitleri verilen ülkelerden hangisinin nüfus artış hızının son yıllarda azaldığı söylenebilir?



Nüfus Politikaları ve Türkiye'nin Nüfus Projeksiyonları

7. Aşağıdaki verilen ülkelerden hangisinin, nüfus artış hızını azaltmaya yönelik politikalar uygulaması gerekir?

- A) Hindistan B) Japonya C) İsveç
D) Kanada E) Danimarka

8. Aşağıdakilerden hangisi nüfus artış hızının yüksek olduğu ülkelerde ortaya çıkan olumsuz durumlardan biridir?

- A) Mal ve hizmetlere olan talep artar.
B) Üretim maliyetleri azalır.
C) İş gücü potansiyeli artar.
D) Yeni iş imkânları oluşur.
E) Demografik yatırımlar artar.

9. Türkiye 1960 yılına kadar uyguladığı nüfus artış hızını yükseltmeye yönelik politikalardan vazgeçmiştir. 1960 yılından sonra nüfus artış hızını azaltmaya yönelik yeni politikalar uygulamaya koyulmuştur.

Bu durumun nedenleri arasında aşağıdakilerden hangisi gösterilemez?

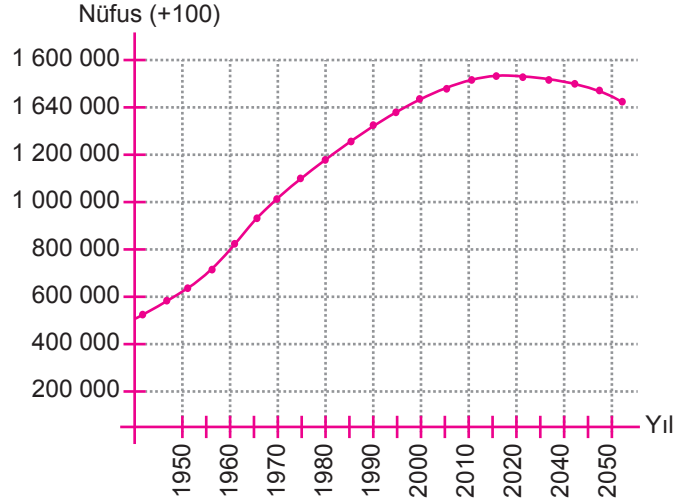
- A) Nüfusun hızlı artışı nedeniyle tüketim miktarının artması
B) Askeri güç üzerinde nüfusun etkisinin azalması
C) Tarımda makine kullanımının artış göstermesi
D) Nüfus artışının kalkınma hızını yavaşlatması
E) Sanayi üretiminin azalması

10. Almanya, Fransa ve Japonya'nın yıllara göre nüfus dağılımına bakıldığında, nüfus artış hızlarının özellikle 1950 – 1970 yılları arasında çok yüksek olduğu görülmektedir.

Yukarıda verilen durumun ortaya çıkmasının temel nedeni nedir?

- A) Sağlık koşullarının iyileşmesi
B) Çocuğu çok olan ailelere maddi yardımların yapılması
C) İkinci Dünya Savaşı nedeni ile doğum oranlarının çok azalması
D) Sanayi ile birlikte iş gücü açığının ortaya çıkması
E) Eğitim seviyesinin düşük olması

11. Aşağıda Çin'in 1950-2050 yılları arasındaki tahmini nüfus değişim grafiği verilmiştir.



Bu grafiğe göre Çin'de nüfusun 2030 yılından itibaren azalma eğilimine gireceği tahmin edilmektedir.

Bu durum üzerinde;

- I. tek çocuk politikası,
II. doğum kontrol yöntemlerinin yaygınlaştırılması
III. kırsal kesimde tarımsal üretimin yüksek olması

verilenlerden hangilerinin etkili olduğu söylenebilir?

- A) Yalnız I. B) Yalnız II. C) I ve II.
D) II ve III. E) I,II ve III.

12. Nüfus artış hızını yükseltmek isteyen bir ülkenin aşağıdaki politikalardan hangisini uygulaması doğru değildir?

- A) Sağlık koşullarının iyileştirilmesi
B) Kreşlerin yaygınlaştırılması ve ücretsiz hizmet vermesi
C) Çocuk sayısına paralel olarak vergi artırımını yapılması
D) Çalışan kadınlar için doğum izinlerinin uzatılması
E) Dış göçle gelen nüfus için yatırımların yapılması

