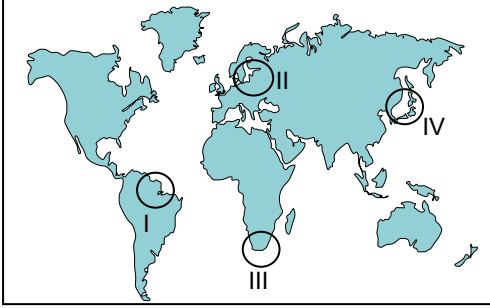


Küresel Ticaret ile Hammadde, Üretim, Pazar İlişkisi

1. Aşağıda Dünya üzerinde dört farklı alan işaretlenmiştir.

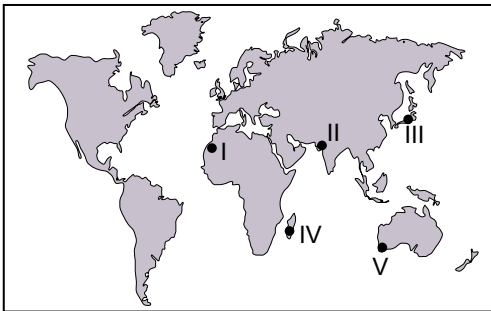


Bu alanlardan hangi ikisi küresel ölçekte önemli sanayi üretim alanları içindedir?

- A) I ve II. B) I ve III. C) II ve III.
D) II ve IV. E) III ve IV.

2. Limandan ayrıldıktan sonra en az yedi gün süreyle denizde kalıp avlanma yapabilen, avladıkları balıkları muhafaza ve işleme imkânlarına sahip gemilerle kara sularının dışında yapılan balıkçılık faaliyetlerine açık deniz balıkçılığı denilmektedir.

Bu balıkçılık türü,

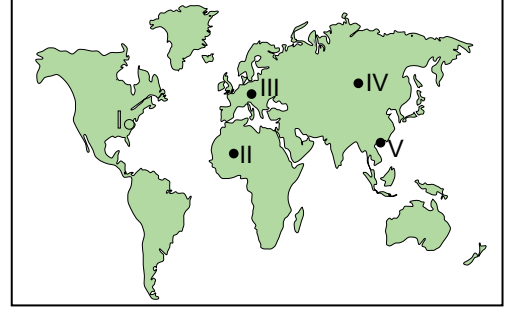


haritada işaretlenen yerlerin hangisinde daha fazla gelişme göstermiştir?

- A) I B) II C) III D) IV E) V

3. Nüfus artış hızı ve nüfus yoğunluğunun fazla olduğu bazı ülkelerde işçi maliyetlerinin ucuz olmasına bağlı olarak sanayi üretiminin fazla olduğunu söyleyebiliriz.

Bu duruma örnek olarak,



haritada işaretlenen yerlerin hangisi gösterilir?

- A) I B) II C) III D) IV E) V

4. K ve Z ülkelerinin

- iklim özellikleri,
- yer şekilleri,
- fizyolojik nüfus yoğunluğu,
- çalışan nüfusun ekonomik faaliyet kollarına dağılımlarının benzer olduğu bilinmektedir.

Yalnızca bu bilgiler doğrultusunda K ve Z ülkeleri arasında aşağıda verilen sektörlerden hangisinin ticari potansiyelinin daha az olması beklenir?

- A) Tarımsal ürünler B) Elektronik eşya
C) Motorlu taşıt D) Fosil yakıt
E) Demir-çelik

5. Günümüzde küresel ticaret üzerinde aşağıda verilen ülkelerin hangisinin payı diğerlerine göre daha azdır?

- A) Çin B) İsveç C) Almanya
D) Japonya E) İngiltere

Küresel Ticaret ile Hammadde, Üretim, Pazar İlişkisi

6. Bir ürünün tanıtılması ve tüketiciye ulaştırılması ticari faaliyetler için oldukça önemlidir.

Bu cümlede ticaret üzerinde aşağıdakilerden hangisinin önemli olduğuna değinilmiştir?

- A) Doğal çevre özellikleri
- B) Pazarlama faaliyetleri
- C) Hammadde temini
- D) Üretim miktarı
- E) İş gücü

7. I. Katar
II. Rusya
III. Türkiye
IV. İran
V. Cezayir

Yukarıda verilen ülkeler içinde doğalgaz üretimi en az olan ülke hangisidir?

- A) I B) II C) III D) IV E) V

8. Pakistan, Mısır ve Venezuela ülkeleri daha çok hammadde ihraç edip, sanayi ürünleri ithal ederler.

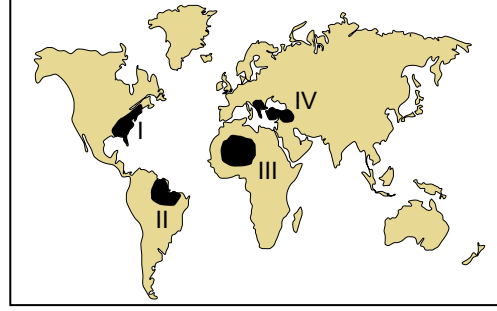
Bu durumun nedeni olarak;

- I. iş gücü olanaklarının sınırlı olması,
- II. sanayi üretim tesislerinin yetersiz olması,
- III. sermaye birikiminin yetersiz olması

verilenlerden hangileri gösterilemez?

- A) Yalnız I. B) Yalnız II. C) I ve II.
D) I ve III. E) II ve III.

9. Aşağıda harita üzerinde dört farklı alan taranmıştır.



Bu alanlardan hangi ikisinde hizmet sektörünün diğer ikisine oranla daha fazla geliştiği söylenir?

- A) I ve II. B) I ve III. C) II ve III.
D) I ve IV. E) III ve IV.

10. Aşağıda verilen ülkelerin hangisinin ithalatında tarımsal ürünlerin payı daha fazladır?

- A) Gana B) Rusya C) Ekvador
D) Malezya E) Kolombiya

11. Ticari faaliyetler Kuzey Yarımküre'de, Güney Yarımküre'ye oranla daha fazla gelişmiştir.

Bu durum üzerinde;

- I. nüfusun alansal dağılışı,
- II. kara ve denizlerin dağılışı,
- III. üretim ve tüketim bölgelerinin konumu

verilenlerden hangileri etkili olmuştur?

- A) Yalnız I. B) Yalnız II. C) I ve II.
D) II ve III. E) I, II ve III.

