

Türkiye'de İç Kuvvetler

1. Esnek olmayan levhalar yan basınçlara uğradığında kırılırlar. Bu olay dağ oluşumuna neden olan olaylar arasındadır.



Buna göre haritada işaretlenen dağlardan hangisi bu şekildeki oluşuma örnek olarak gösterilebilir?

- A) Uludağ B) Bey Dağı C) Yunt Dağı
D) Kaçkar Dağı E) Erciyes Dağı

2. Batı Anadolu'da levhaların hareketi sonucu kırılma ile oluşmuş ve denize dik uzanan dağlar yer alır.

Bu durum Batı Anadolu'da aşağıda verilenlerden hangisi üzerinde etkili olmamıştır?

- A) Denizel hava kütlelerinin iç kısımlara ulaşması
B) Karayollarının doğu- batı yönünde uzanması
C) Ege denizi kıyısında bulunan limanların hinterlandının geniş olması
D) Akarsuların grabenler içerisinde doğu-batı yönünde akması
E) Kızılçam ağaçlarının tahrip edilmesi sonucu maki bitki örtüsünün oluşması

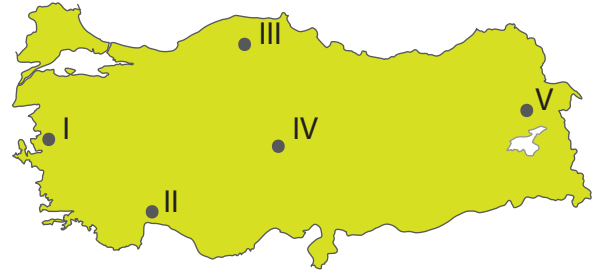
3.



Harita üzerinde dağılışı gösterilen doğal unsur aşağıdakilerden hangisidir?

- A) Dağlar B) Akarsular C) Ovalar
D) Platolar E) Karstik alanlar

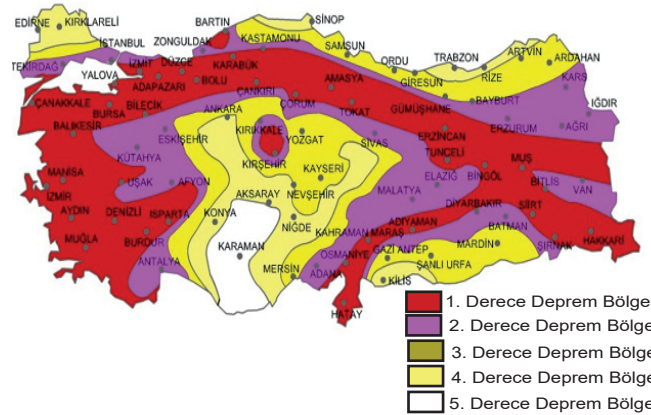
4. Orojenezin etkili olduğu yerlerde yer kabuğunun sert bölümleri kıvrılmadığı için yer yer kırılır. Bu kırılmalar sonucunda bazı kesimler yükselir, bazı kesimler ise çökerek alçalır. Yükselen kesime horst, alçalan kesime ise graben denir.



Buna göre harita üzerinde numaralanmış yerlerin hangisinde horst ve graben oluşumu görülür?

- A) I. B) II. C) III. D) IV. E) V.

5. Aşağıdaki harita üzerinde fay hatlarının dağılışı gösterilmiştir.



Fay hatlarının dağılışı göz önüne alındığında Türkiye ile ilgili aşağıdakilerden hangisine ulaşılabilir?

- A) Karstik alanlar geniş yer tutar.
B) Jeotermal enerji potansiyeli yüksektir.
C) Levhaların birbirinden uzaklaştığı alanda yer alır.
D) Yeraltı suları bakımından zengin potansiyele sahiptir.
E) I. Jolojik zamanda oluşmuş araziler geniş yer tutar.

Türkiye'de İç Kuvvetler

6. Türkiye'nin Alp Himalaya Orojenez sisteminde yer alması;

- I. Karasal iklim özelliklerinin görülmesi
- II. Tektonik depremlerin yaygın olması
- III. Ortalama yükseltisinin fazla olması

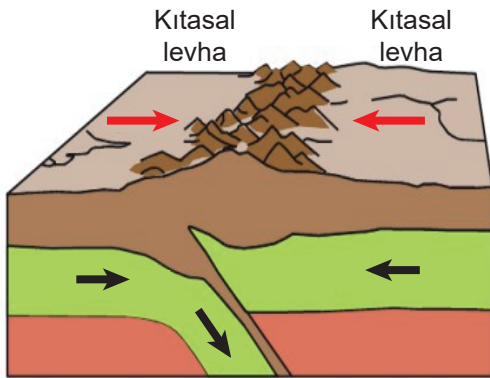
verilenlerden hangileri üzerinde doğrudan etkili olmuştur?

- A) Yalnız I B) Yalnız II C) Yalnız III
D) I ve II E) II ve III

7. Ülkemizin yer şekilleri hakkında aşağıda verilen bilgilerden hangisi yanlıştır?

- A) Yerkabuğu hareketleri sonucu Karadeniz kıyıları boyunca doğu-batı yönünde uzanan sıradağlar yer alır.
- B) Batı Anadolu'da levha hareketleri sonucu kırılma ile oluşmuş çöküntü ovaları yer alır.
- C) Anadolu'da Epirojenik hareketlere bağlı yükselmeler meydana gelmiştir.
- D) Karadeniz kıyılarında volkanizma sonucunda oluşmuş volkan konileri yer alır.
- E) Batı Anadolu'nun büyük bir kısmında deprem riski yüksektir.

8. Aşağıdaki görselde kıtasal levhaların birbirine yaklaşması sonucu oluşan kıvrım dağlar sembolize edilmiştir.



Buna göre aşağıdaki dağlardan hangisi bu şekilde oluşmuştur?

- A) Ağrı Dağı B) Küre Dağları C) Erciyes Dağı
D) Hasan Dağı E) Yunt Dağı

9. Aşağıdaki yer şekillerinden hangisinin oluşumunda iç kuvvetlerin doğrudan etkili olduğu söylenebilir?

- A) Çukurova Deltası B) Pamukkale Travertenleri
C) Toros Dağları D) Damlatay Mağarası
E) Çarşamba Ovası

10. Aşağıdaki harita üzerinde beş farklı yer numaralandırılarak gösterilmiştir.



Bu yerlerden hangisinde tektonik deprem oluşma ihtimali diğerlerine göre daha azdır?

- A) I. B) II. C) III. D) IV. E) V.

11. Aşağıdaki harita üzerinde bazı ovalar gösterilmiştir.



Bu ovaların oluşmasında;

- I. Orojenik hareketler
- II. Depremler
- III. Yer altı suları
- IV. Buzullar

verilen kuvvetlerden hangilerinin etkisinden söylenebilir?

- A) I ve II. B) I ve III. C) II ve III.
D) II ve IV. E) III ve IV.

