

Uluslararası Ulaşım Hatlarının Küresel ve Bölgesel Etkileri

1. Büyük su kütlelerini birbirine bağlayan kanalların açılması ile gemilerin zaman ve yakıt giderlerinden tasarruf sağlanmıştır. Ayrıca bu kanallar buldukları ülkeler için gelir kaynağı da olmuştur.

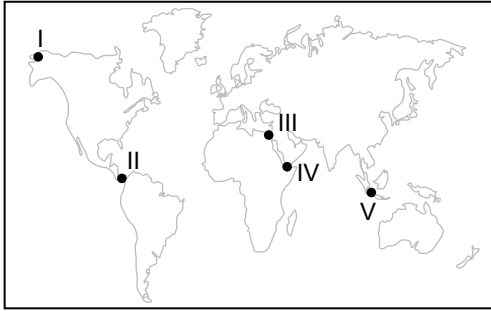
Buna göre;

- I. Mısır
II. Yunanistan
III. Panama

verilen ülkelerin hangilerinin kanal geçişlerinden gelir elde ettiği söylenebilir?

- A) Yalnız I. B) Yalnız III. C) I ve II.
D) I ve III. E) I, II ve III.

2. Aşağıdaki Dünya haritasında bazı boğaz ve kanallar gösterilmiştir.



Bu kanal ve boğazlardan hangisinin uluslararası ticaretteki önemi diğerlerine göre daha azdır?

- A) I B) II C) III D) IV E) V

3. Ulaştırma, mal ve hizmetlerin çeşitli ulaşım araçları ile taşınmasını kapsamaktadır.

Buna göre;

- I. Tren
II. Gemi
III. Uçak
IV. Kamyon

verilen ulaşım araçlarından hangi ikisi tek seferde diğerlerine göre daha fazla yük taşıma kapasitesine sahiptir?

- A) I ve II. B) I ve III. C) II ve III.
D) II ve IV. E) III ve IV.

4. Süveyş kanalı hangi denizleri birbirine bağlamaktadır?

- A) Akdeniz - Kızıldeniz
B) Karadeniz - Akdeniz
C) Ege Denizi - Akdeniz
D) Kuzey Denizi - Baltık Denizi
E) Marmara Denizi - Karadeniz

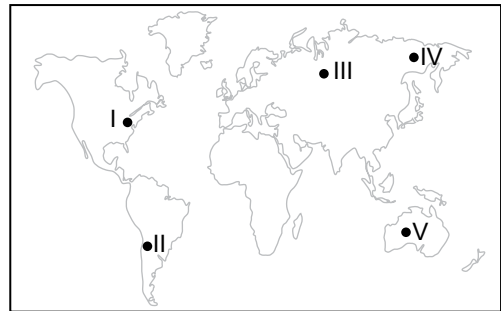
5. Aşağıda bir yük gemisinin yol güzergâhı boyunca kullandığı su yolları verilmiştir.

- Süveyş Kanalı
- Hürmüz Boğazı
- Cebelitarık Boğazı

Bu geminin aşağıda verilen ülkelerden hangisinin kara sularından geçtiği söylenemez?

- A) Fas B) Mısır C) İran
D) Norveç E) İspanya

6. Aşağıdaki harita üzerinde beş farklı alan numaralandırılarak gösterilmiştir.



Bu alanların hangisinde demir yolu ağı diğerlerine göre daha fazla gelişmiştir?

- A) I B) II C) III D) IV E) V

Uluslararası Ulaşım Hatlarının Küresel ve Bölgesel Etkileri

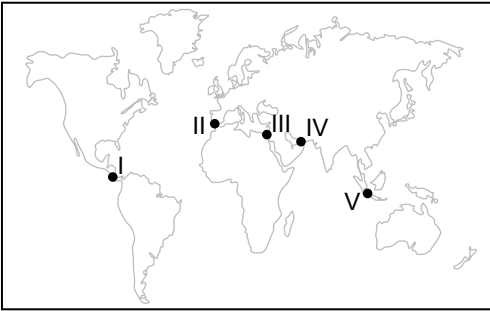
7. Aşağıda verilen ülkelerin hangisinde hava yolu ulaşımını diğerlerine göre daha fazla geliştirmiştir?

- A) İtalya B) ABD C) Romanya
D) Danimarka E) Finlandiya

8. İngiltere ile Fransa'yı deniz tabanından birbirine bağlayan ulaşım yolu hangisidir?

- A) Korint Kanalı
B) Avrasya Tüneli
C) Manş Tüneli
D) Panama Kanalı
E) Kiel Kanalı

9. Aşağıdaki harita üzerinde bazı kanal ve boğazlar numaralandırılarak gösterilmiştir.



Haritada numaralandırılarak gösterilen bu boğaz ve kanallardan hangisinin ismi yanlış verilmiştir?

- A) I - Panama Kanalı
B) II - Cebelitarık Boğazı
C) III - Babülmendep Boğazı
D) IV - Hürmüz Boğazı
E) V - Malakka Boğazı

10. Panama Kanalı'nın açılması ile uluslararası deniz ticaretinde önemini kaybeden boğaz aşağıdakilerden hangisidir?

- A) Hürmüz B) Macellan C) Bering
D) Cebelitarık E) Çanakkale

11. Aşağıda verilen yerlerden hangileri arasında deniz yolu ulaşımını diğerlerine göre daha yoğundur?

- A) Batı Avrupa - Kuzey Amerika
B) Orta Afrika - Kuzey Avrupa
C) Güney Amerika - Avustralya
D) Orta Amerika - Güney Asya
E) Avustralya - Kuzey Afrika

12. • Afrika ile Avrupa kıtaları arasında yer alır.
• Akdeniz ile Atlas Okyanusu'nu birbirine bağlar.
• İspanya ile Fas arasındadır.

Özellikleri verilen su yolu aşağıdakilerden hangisidir?

- A) Dover Boğazı
B) Bering Boğazı
C) Panama Kanalı
D) Korint Kanalı
E) Cebelitarık Boğazı

