

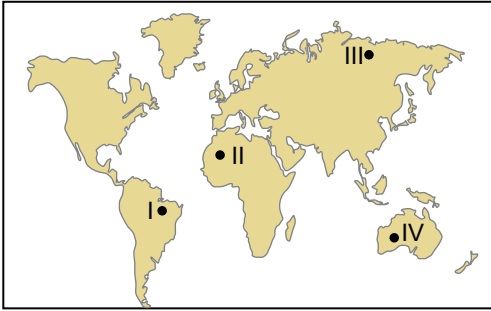
Dünya'da Nüfusun Alansal Dağılışı ve Nüfus Piramitleri

1. Dünya nüfusu yeryüzüne eşit ve dengeli dağılmamıştır. Bu dağılışı üzerinde doğal ve beşeri faktörler etkili olmaktadır.

Bu dağılışı üzerinde aşağıda verilen doğal faktörlerden hangisi daha fazla etkili olmuştur?

- A) İklim koşulları
B) Toprak özellikleri
C) Bitki örtüsü
D) Yerçekli özellikleri
E) Yeraltı kaynakları

2. Aşağıdaki harita üzerinde nüfusun seyrek olduğu bazı alanlar gösterilmiştir.



Bu alanlardan hangilerinde nüfusun seyrek olmasının sebebi kuraklıktır?

- A) I ve II.
B) I ve III.
C) II ve III.
D) II ve IV.
E) III ve IV.

3. Bir alanda yaşayan toplam nüfusun o alana bölünmesiyle aritmetik nüfus yoğunluğu elde edilir.

Buna göre yüzölçümü bilinen bir ülkenin aritmetik nüfus yoğunluğu bilinirse, aşağıda verilenlerden hangisine ulaşılabilir?

- A) Kırsal nüfus miktarı
B) Nüfus artış hızı
C) Çalışan nüfus miktarı
D) Toplam nüfus miktarı
E) İşsiz nüfus miktarı

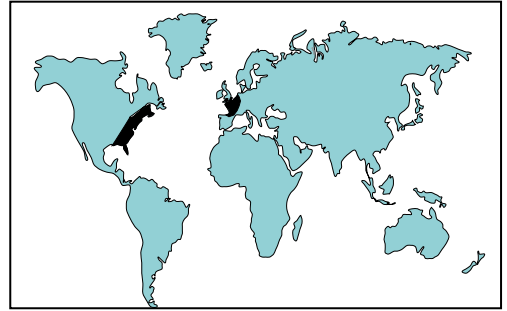
4. Aşağıda nüfusun seyrek olduğu bazı alanlar ve bu alanlarda nüfusun seyrek olma nedenleri eşleştirilmiştir.

- I. Kuzey Afrika – İklim koşulları
II. Amazon Havzası – Yerçekli
III. Sibirya Platosu – İklim koşulları

Bu eşleştirmelerden hangileri yanlıştır?

- A) Yalnız I.
B) Yalnız II.
C) Yalnız III.
D) I ve II.
E) I ve III.

5. Aşağıdaki harita üzerinde nüfusun yoğun olduğu bazı alanlar verilmiştir.



Bu alanlarda nüfusun yoğun olması üzerinde;

- I. Sanayi faaliyetlerinin gelişmiş olması
II. Deniz turizmi potansiyelinin fazla olması
III. İş imkanlarının fazla

verilenlerden hangileri etkili olmuştur?

- A) Yalnız I.
B) Yalnız II.
C) Yalnız III.
D) I ve II.
E) I ve III.

6. Aşağıdakilerden hangisi Dünya'da nüfusun dağılışı üzerinde etkili olan doğal faktörlerden biri değildir?

- A) İklim
B) Yer şekilleri
C) Tarımsal faaliyetler
D) Su kaynakları
E) Bitki örtüsü

Dünya'da Nüfusun Alansal Dağılışı ve Nüfus Piramitleri

7. Aşağıda dünya üzerinde sık nüfuslu bazı yerler verilmiştir.

- Japonya
- Batı Avrupa Ülkeleri
- ABD'nin doğusu

Bu yerlerde nüfusun yoğun olmasında aşağıdakilerden hangisi daha fazla etkili olmuştur?

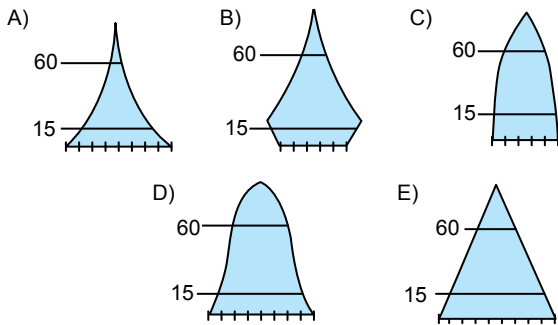
- A) Tarım B) Yer şekilleri C) Su kaynakları
D) Sanayi E) Turizm

8. Aşağıdaki nüfus dağılışı ve bu dağılıшта etkili olan temel faktör eşleştirmelerinden hangisi doğru olarak verilmiştir?

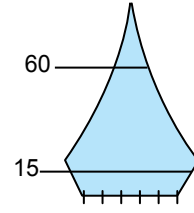
| Nüfus Dağılışı | Faktör |
|---|--------------|
| A) Asya kıtasının kuzeyi seyrek nüfusludur. | Baki |
| B) Kuzeybatı Avrupa yoğun nüfusludur. | Yerşekilleri |
| C) Amerika kıtasının kuzeyi seyrek nüfusludur. | Ulaşım |
| D) Avustralya'nın orta ve batı kesimlerinde nüfus seyrektr. | Yerşekilleri |
| E) Grönland adasında nüfus seyrektr. | İklim |

9. I. Bebek ölüm oranı fazladır.
II. Ortalama yaşam süresi kısadır.
III. Doğal nüfus artış hızı yüksektir.

Yukarıda verilen nüfus özelliklerine sahip bir ülkenin, nüfus piramidi aşağıdakilerden hangisine daha çok benzer?



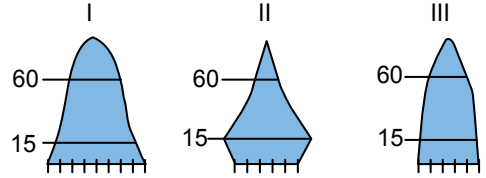
10.



Nüfus piramidi yukarıdaki gibi olan bir ülkenin, nüfus özellikleri ile ilgili olarak hangisi kesin söylenebilir?

- A) Doğum oranı azalmıştır.
B) İşsizlik oranı artmıştır.
C) Bağımlı nüfus oranı artmıştır.
D) Sanayi ürünleri tüketimi azalmıştır.
E) Bebek ölüm oranları artmıştır.

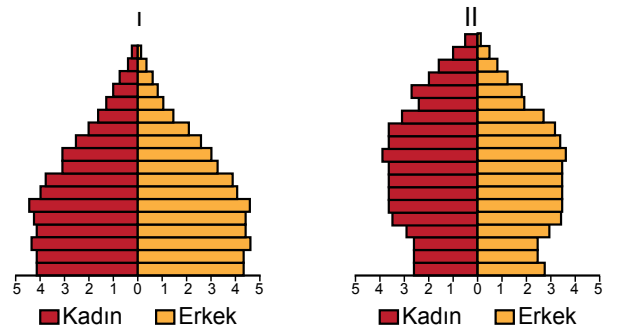
11.



Yukarıda verilen nüfus piramitlerinden hangileri son yıllarda doğum oranı artan ülkelere aittir?

- A) Yalnız I. B) Yalnız II. C) Yalnız III.
D) I ve III. E) II ve III.

12.



Yukarıda verilen nüfus piramitleri ile ilgili olarak aşağıdakilerden hangisi söylenemez?

- A) II. piramitte yaşlı nüfus oranı daha fazladır.
B) I. piramitte doğum oranı daha fazladır.
C) I. piramitte 0 - 14 yaş bağımlı nüfus daha fazladır.
D) Toplam nüfus miktarları aynıdır.
E) II. piramitte doğal nüfus artış hızı düşüktür.

